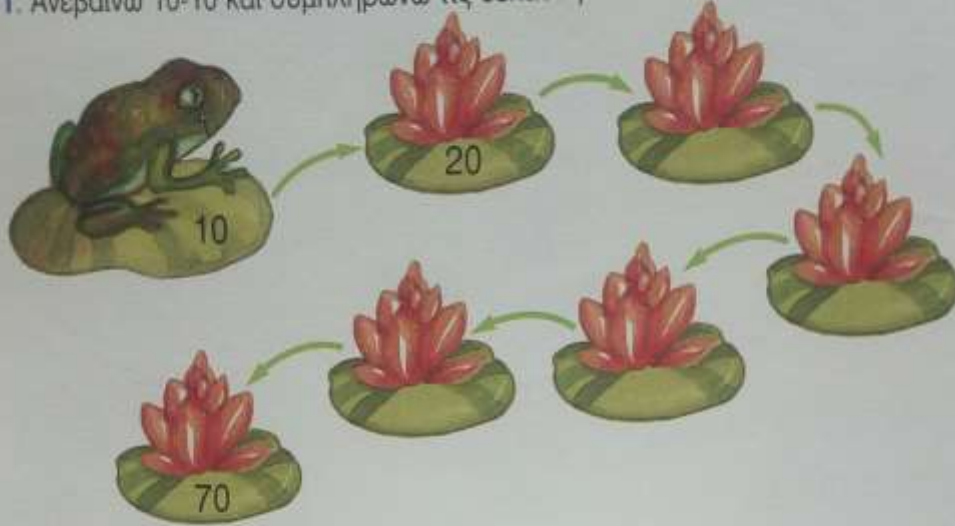


Οι αριθμοί από το 50 μέχρι το 70

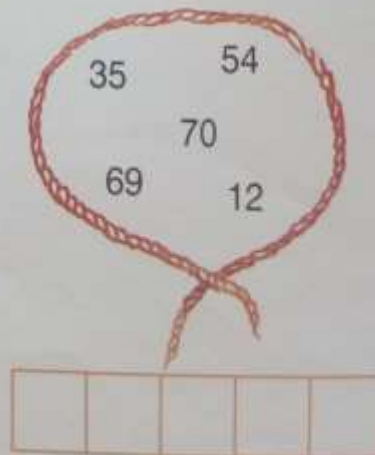
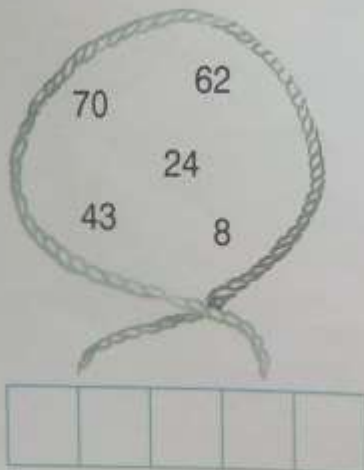
1. Ανεβαίνω 10-10 και συμπληρώνω τις δεκάδες που λείπουν:



2. Γράφω τον προηγούμενο και τον επόμενο αριθμό:

	43			57			62			35	
	69			60			51			50	



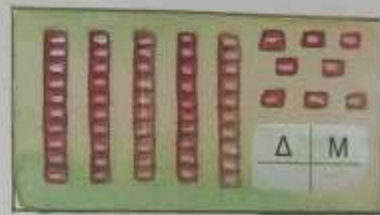
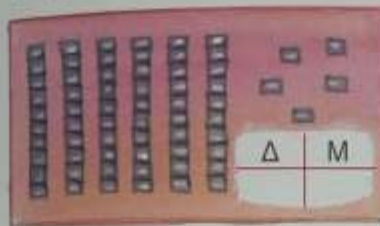
3. Γράφω τους αριθμούς στη σειρά ξεκινώντας από το μικρότερο:





Θυμάμαι: 10 μονάδες = 1 δεκάδα

4. Συμπληρώνω τους αριθμούς που λείπουν:



5. Ενώνω τους αριθμούς από το 1 ως το 70.

